

**ДЕМОНСТРАЦИОННЫЙ ВАРИАНТ**  
 проверочных материалов для промежуточной аттестации учащихся 7 классов  
 в форме Семейного образования и Самообразования  
 по ГЕОГРАФИИ

Демонстрационный вариант дает возможность составить представление о структуре работы, количестве заданий, их форме и уровне сложности.

**Спецификация**

- Все задания представляют собой закрытый вопрос или вопрос, требующий краткого ответа.
- Количество заданий в демонстрационном варианте совпадает с количеством заданий в аттестации и составляет 20-25 вопросов.
- Вариант не содержит письменных работ.

<b>Проверяемый результат обучения</b>
Географические модели. Географическая карта, план местности.
Географические модели. Географическая карта, план местности.
Выдающиеся географические исследования, открытия и путешествия.
Земная кора и литосфера. Состав, строение и развитие.
Земная кора и литосфера. Формы рельефа суши.
Земная кора и литосфера. Состав, строение и развитие. Рельеф земной поверхности.
Земная кора и литосфера. Состав, строение и развитие. Рельеф земной поверхности.
Земная кора и литосфера. Состав, строение и развитие. Рельеф земной поверхности.
Атмосфера. Распределение тепла и влаги. Погода и климат.
Атмосфера. Состав, строение, циркуляция.
Гидросфера. Мировой океан, его части.
Гидросфера. Поверхностные воды.
Гидросфера. Мировой океан, его части. Состав вод МО.
Географическая оболочка. Широтная зональность и высотная поясность.
Географическая оболочка Земли. Широтная зональность и высотная поясность.
Население Земли. Численность населения.
Основные черты природы Африки. Географическое положение.
Материки и страны. Многообразие природных зон.
Основные черты природы Южной Америки. Климат.
Материки и страны.

Материки и страны.
Основные черты природы Австралии. Многообразие растений и животных
Основные черты природы Евразии. Географическое положение.
Основные черты природы Евразии. Рельеф
Материки и страны. Многообразие стран Евразии.

### Тестовые задания

1. Поставьте точки на карте по приведённым ниже координатам. Обозначьте эти точки соответственно цифрами 1 и 2.

Точка 1 —  $5^{\circ}$  ю. ш.;  $55^{\circ}$  з. д.

Точка 2 —  $5^{\circ}$  ю. ш.;  $35^{\circ}$  в. д.

В каком направлении от точки 2 находится точка 1?

Ответ: \_\_\_\_\_.

2. В каком направлении от острова Куба расположен полуостров Флорида.

Ответ: \_\_\_\_\_.

3. На карте мира изображён маршрут экспедиции одного из путешественников, портреты которых представлены ниже. Маршрут экспедиции кого из путешественников изображён на карте? Запишите в ответе имя и фамилию путешественника.



Джеймс Кук



Христофор Колумб



Фернан Магеллан



Ответ: \_\_\_\_\_.

4. На каких из перечисленных островов имеются действующие вулканы?

- 1) Мадагаскар
- 2) Шри-Ланка
- 3) Хонсю
- 4) Сахалин

Укажите номера ответов через запятую, без пробелов.

Ответ: \_\_\_\_\_.

5. Верны ли следующие утверждения о процессах, происходящих в литосфере?

**А.** Изменение положения материков показывают, что литосферные плиты движутся.

**Б.** Литосфера изменяет своё положение вертикально — это медленное поднятие и опускание материков.

- 1) верно только А
- 2) верно только Б
- 3) верны оба утверждения
- 4) оба утверждения неверны

Укажите номер ответа.

Ответ: \_\_\_\_\_.

6. С помощью карт атласа определите, на территории какого из перечисленных островов наиболее вероятны сильные землетрясения?

- 1) Ирландия
- 2) Мадагаскар
- 3) Гренландия
- 4) Суматра

Укажите номер ответа.

Ответ: \_\_\_\_\_.

7. Расположите горы, обозначенные цифрами, в порядке увеличения абсолютной высоты их высочайших вершин.

- 1) Анды
- 2) Альпы
- 3) Аппалачи

Запишите в таблицу цифры в нужной последовательности.

Ответ: 

--	--	--

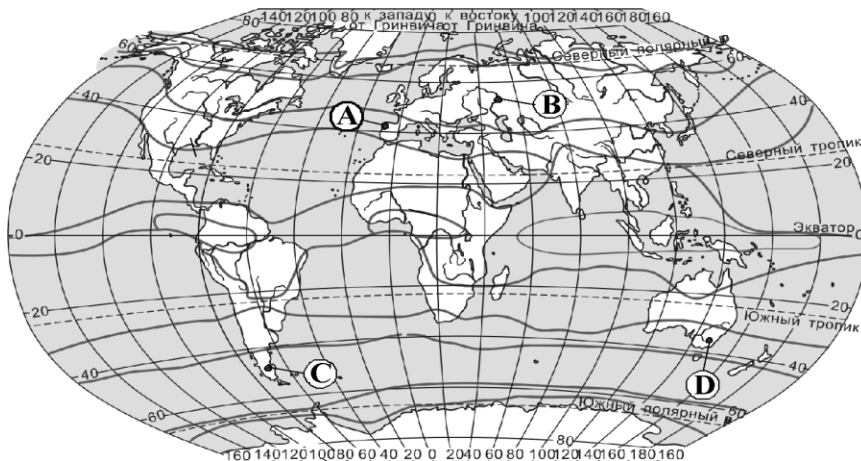
***Задание 8 выполняется с использованием климатограммы.***

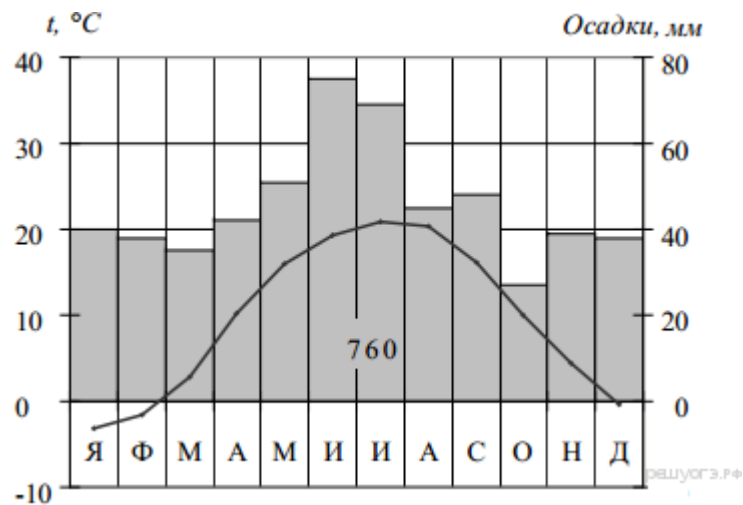
8. Проанализируйте климатограмму и определите, какой буквой на карте обозначен пункт, характеристики климата которого отражены в климатограмме.

- 1) А
- 2) В
- 3) С
- 4) D

Укажите номер ответа.

Ответ: \_\_\_\_\_.





**Задание 9 выполняется с использованием приведенного ниже фрагмента текста.**

9. Тихоокеанские муссоны принесли сильные ливневые дожди в северо-восточные районы Китая. Общее количество выпавших атмосферных осадков в 2 раза превысило обычную для этого времени года норму. В провинции Ляонин реки вышли из берегов. Некоторые деревни оказались на грани затопления.

Какую из перечисленных карт необходимо выбрать для того, чтобы определить, каково среднегодовое количество атмосферных осадков в северо-восточных районах Китая?

- 1) физическую
- 2) геологическую
- 3) климатическую
- 4) природных зон

Укажите номер ответа.

Ответ: \_\_\_\_\_.

10. Какое из перечисленных океанических течений тёплое?

- 1) Лабрадорское
- 2) Перуанское
- 3) Бенгельское
- 4) Бразильское

Укажите номер ответа.

Ответ: \_\_\_\_\_.

11. Средняя солёность поверхностных вод Красного моря составляет 42‰. Определите, сколько граммов солей растворено в 3 литрах его воды.

В ответе напишите только число.

Ответ: \_\_\_\_\_ г.

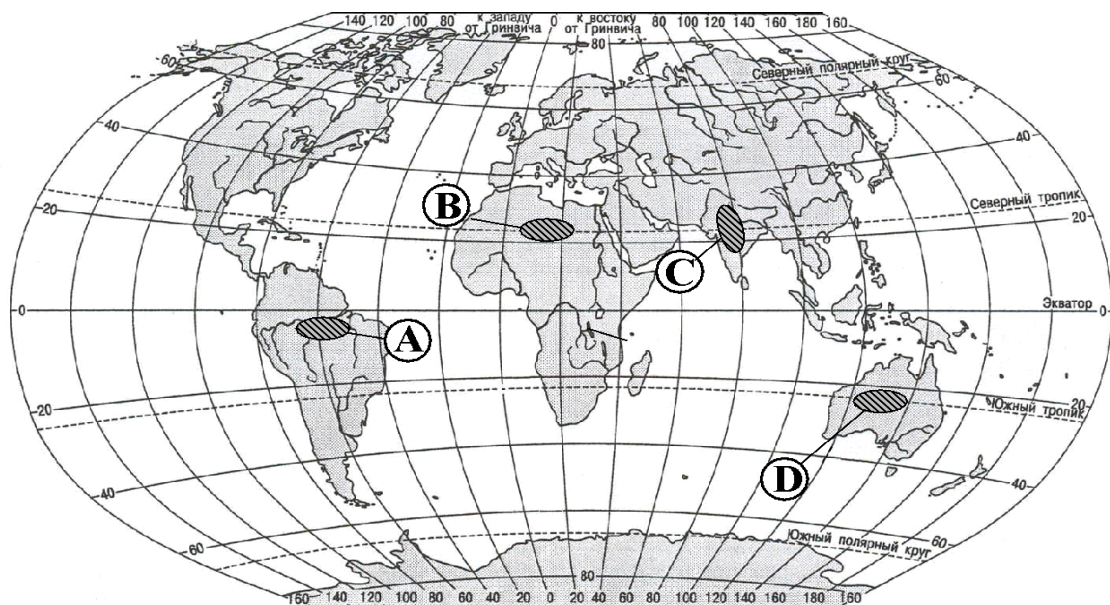
12. Для какого типа умеренного климата характерны самые низкие зимние температуры?

- 1) морского
- 2) умеренно-континентального
- 3) резко континентального
- 4) муссонного

Укажите номер ответа.

Ответ: \_\_\_\_\_.

13. Какой из регионов, обозначенных буквами на карте мира, является наиболее густонаселенным?



Укажите номер ответа.

Ответ: \_\_\_\_\_.

14. Какие утверждения о размерах и географическом положении Африки являются верными? Отметьте два верных ответа.

- 1) Большая часть Африки располагается в умеренном поясе освещенности.
- 2) Материк располагается в трёх климатических поясах
- 3) На западе Африку омывает Атлантический океан.
- 4) На северо-востоке материк омывается Красным морем.

Укажите номера ответов через запятую, без пробелов.

Ответ:\_\_\_\_\_.

15. Определите природную зону по её краткому описанию.

Эта природная зона занимает огромные площади на равнинах Северного полушария, в зоне распространения многолетней мерзлоты. В составе древесного яруса преобладают хвойные породы, в наземном – мхи и травы. Недостаток тепла и избыток влаги – причина малого накопления гумуса в почве. Обширные пространства заболочены.

Ответ:\_\_\_\_\_.

16. Верны ли следующие утверждения о климате Южной Америки?

- А.** Самые низкие температуры воздуха характерны для севера материка.
- Б.** Наибольшее количество осадков выпадает на Амазонской низменности.

- 1) верно только А
- 2) верно только Б
- 3) верны оба утверждения
- 4) оба утверждения неверны

Укажите номер ответа.

Ответ:\_\_\_\_\_.

17. Представьте, что Вам было поручено взять интервью у зарубежного сверстника, чтобы он познакомил Вас со своей страной. Для иллюстрации этого интервью Вы попросили его прислать несколько фотографий, сделанных в стране, в которой он живёт.

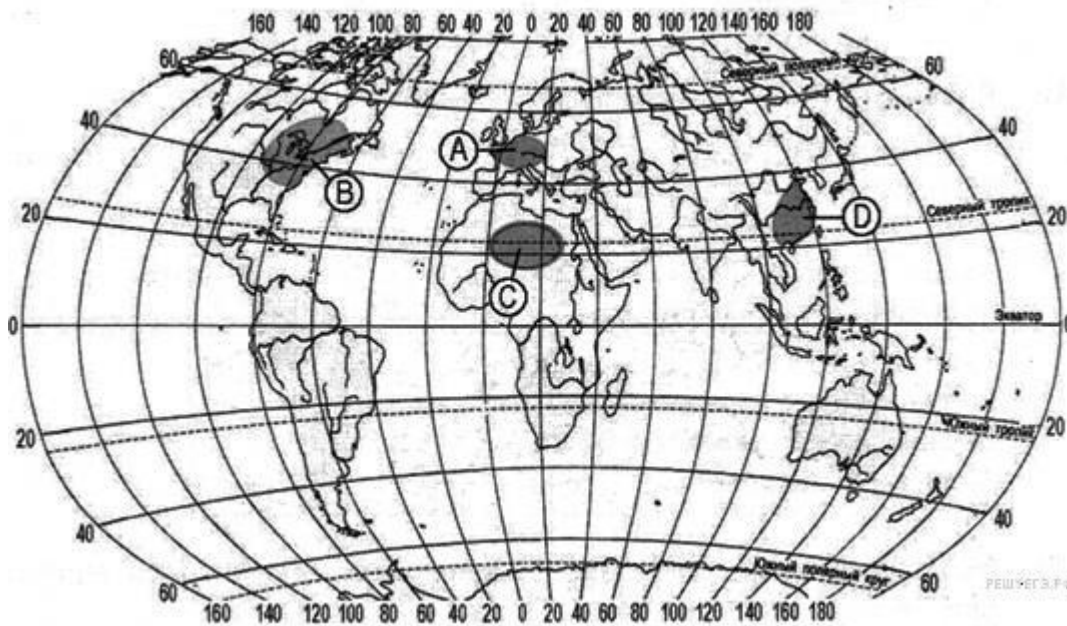
Рассмотрите фотографии и ответьте на вопросы.



- 1) В какой стране живёт Ваш сверстник?
- 2) Как называется столица этой страны?

Ответ: 1)\_\_\_\_\_.2)\_\_\_\_\_.

18. Какая из территорий, обозначенных на карте мира, имеет наименьшую среднюю плотность населения?



- 1) А
- 2) В
- 3) С
- 4) D

Ответ:\_\_\_\_\_.

19. В Австралии в естественных условиях обитают

- 1) медведь гризли и верблюд
- 2) панда и бизон
- 3) лама и зебра
- 4) утконос и сумчатый дьявол



Укажите номер ответа.

Ответ: \_\_\_\_\_.

20. Какое утверждение о крайних точках материка Евразия верно?

- 1) Крайняя северная точка Евразии - мыс Челюскин;
- 2) Евразия - часть света;
- 3) В Евразии на широте Северного полярного круга много действующих вулканов;
- 4) В основании Евразии лежит единая платформа.

Укажите номер ответа.

Ответ: \_\_\_\_\_.

21. Какой из действующих вулканов Евразии является наиболее высоким?

- 1) Этна
- 2) Ключевская Сопка
- 3) Везувий
- 4) Фудзияма

Укажите номер ответа.

Ответ: \_\_\_\_\_.

22. Определите страну по её краткому описанию. Запишите в ответе слово.

Это одна из самых густонаселенных стран Европы. Страна расположена на землях в устьях рек Рейна, Мааса и Шельды. Из почв, нанесенных этими реками, образовались дельта и обширная плоская низменность. Половина территории лежит ниже уровня моря, и только на юге местность повышается до 30 метров и более. Береговая линия сформирована наносными дюнами. За ними идут некогда отвоеванные у моря земли, называемые польдерами и защищенные дюнами и дамбами от морских вод.

Ответ: \_\_\_\_\_.

## Таблица ответов

Номер задания	Ответы
1	На запад / запад / в западном
2	На севере / север / в северном
3	Фернан Магеллан
4	3,4
5	3
6	4
7	3,2,1
8	2
9	3
10	4
11	126
12	3
13	3
14	3,4
15	Тайга
16	2
17	Мексика, Мехико
18	3
19	4
20	1
21	2
22	Нидерланды